

Убщ 1 - 418

ВСЕРОССИЙСКАЯ ОЛИМПИАДА ШКОЛЬНИКОВ ПО ОБЩЕСТВОЗНАНИЮ.
2022-2023 уч. г.

ШКОЛЬНЫЙ ЭТАП. 7 КЛАСС

1. Выберите верные утверждения.

1. Многопоколенную семью относят к большим социальным группам.

2. Ключевым элементом демократии в древнегреческих полисах было тайное голосование.

3. Пост Президента России возник до принятия Конституции 1993 года.

58 4. Крупная сеть супермаркетов обычно получает основную часть прибыли за счёт розничной торговли.

5. Если неверно что «и Вася, и Петя любят футбол», то можно точно сказать, что они оба не любят футбол.


Максимум за задание - 5 баллов.

2. Перед вами иллюстрации, на которых изображены различные персонажи. Разделите этих персонажей на две равные группы по признаку их происхождения.

А.



Б.





В.

Д.



Е.



Г.

Максимум за задание 6 баллов.

65
 Група 1: А, В, Е
 Група 2: Б, Г, Д

68

3. Гешите логическуе
 пастрица, ли мармелад
 пастрица. Все пастрици
 сладости положително

Банка

Банка ком

Банка

Банка

3. Решите логическую задачу. В три банки с надписями «мармелад», «пастиклад» и «неверно, что вы пастиклад» на мармелад положили печенье, мармелад и пастиклад. Все надписи оказались неправдивыми. Какие сладости положили в каждую из банок?

Банка	Сладость
Банка «мармелад»	пастиклад
Банка «пастиклад»	мармелад
Банка «неверно, что вы пастиклад»	мармелад

Максимум за задание 6 баллов.

4. Решите экономическую задачу.
 Баба-Яга пришла в магазин, чтобы купить молодильных яблок и приворотное зелье. Она купила 20 яблок. Каждое яблоко весит 150 граммов, а также 10 флажонков приворотного зелья. Поскольку Баба-Яга – пенсионерка, на кассе ей предложили на выбор одну из 3 акций: скидка в размере 11% на общую сумму покупки, скидка в размере 22% на покупку яблок и скидка в размере 22% на покупку зелья. Известно, что килограмм яблок стоит 100 волшебных монеток, а флажон приворотного зелья – 20 волшебных монеток. Сколько волшебных монеток сможет сэкономить Баба-Яга, если выберет лучший для себя вариант? В ответе укажите только число.
 Максимум за задание – 5 баллов.

56
 Ответ: 55

5-10. Решите правовую задачу.
 На уроке общественного воспитания учитель попросил ребят перечислить виды субъектов РФ. К сожалению, ученики затруднились ответить на поставленный вопрос. Учитель решил дать ребятам подсказку и назвал 6 городов, относящихся к субъектам разных видов.

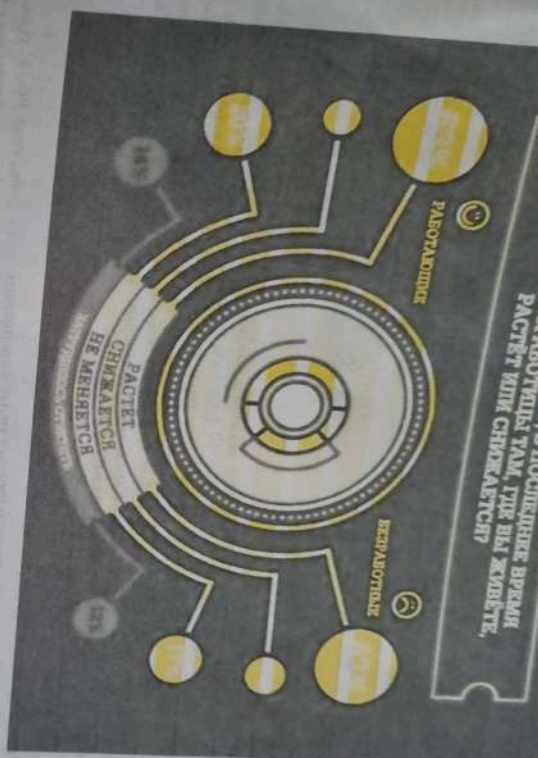
- 1) Казань - республика
- 2) Краснодар - край
- 3) Севастополь -
- 4) Калининград - область
- 5) Анадырь - автономный округ

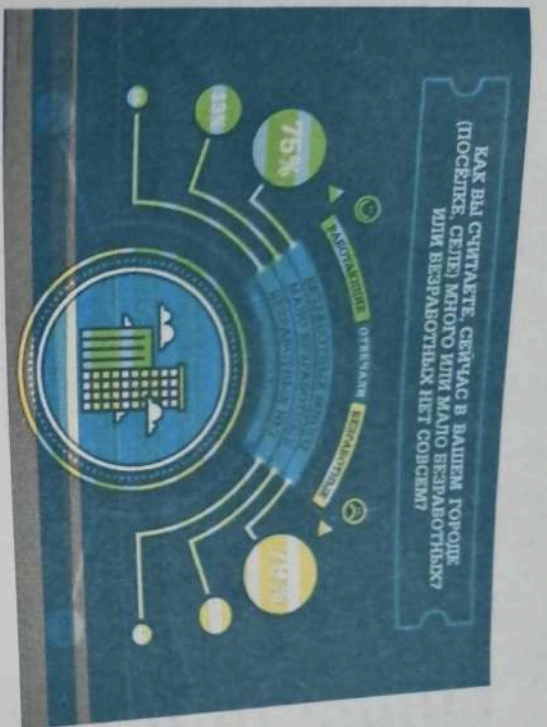
6) Екатеринбург -

Для каждого города укажите **вид субъекта** соответствующий указанному городу. Название субъекта, в котором расположен город, указывать не нужно. Ответ дайте в единственном числе. Максимум за задание 6 баллов.

11. Ознакомьтесь с инфографикой по результатам опроса и определите, какие из перечисленных служений прямо следуют из представленных материалов. Какие прямо противоречат представленным материалам, а какие не имеют прямого отношения к этим материалам (то есть на основании представленных материалов нельзя сделать вывод о том, верны они или нет).

ДО РАЙОНУ МЕНЬШЕ, В ПОСЛЕДНИЕ ВРЕМЯ
УРОБЬЕ ВРАБОТНИКА ТАМ, ГДЕ ВЫ ЖИВЕТЕ,
РАСЧЕТ ИЛИ СЧИТАЕТСЯ?





- А. Большинство опрошенных оценивает текущий уровень безработицы как высокий вне зависимости от их собственного статуса на рынке труда.
- Б. Среди работающих опрошенных больше тех, кто считает, что ситуация с безработицей за последнее время ухудшилась, чем тех, кто считает, что на текущий момент уровень безработицы высокий.
- В. Работавшие в последние 12 месяцев отметили, что ситуация с безработицей в будущем.
- Г. Однако же доли опрошенных в обеих группах не смогли определить уровень безработицы в динамике.
- Д. Среди безработных тех, кто видит позитивные тенденции в ситуации с безработицей, больше, чем тех, кто не видит никаких существенных изменений. Е. На данный момент полная занятость присуща только одному проценту опрошенных.
- Ж. Среди групп опрошенных стабильность в уровне безработицы отмечает большее число работающих граждан. *Борисов - П. И., Неволинде - В. И. С., на шимов отком - В. В.*
- Максимум за задание 7 баллов.

12-16. Прочитайте текст и ответьте на вопросы.

Тема: потребности в принадлежности к семье и потребности в душевном комфорте.

который связан с эмоциональным переживанием причастности человека к чему-то большему, чем он сам, обозначаемому местоимением «мы». Речь идет о потребности человека иметь доступную среду общения, принадлежать к социальной группе, частью которой комфортно себя ощущать. Рассуждая о способах, которыми удовлетворяется потребность в принадлежности, следует помнить, что среда необходима человеку для общения, может быть реальной и воображаемой, при этом реальная среда делится на естественную и искусственную.


Естественную среду образуют так называемые объективно-статусные группы, принадлежность к которым изначально не зависит от воли человека, невыбирающего себе семью, в которой он воспитывается, или статусно-ролевые итносоциальные группы, к которым принадлежит по факту рождения. Эта независимость, однако, не абсолютна и может быть преодолена посредством. Это означает что человек способен покинуть воспитавшую его семью и самостоятельно вступить в брак, имея своих каналы социальной мобильности, человек вполне способен преодолеть свою классовую принадлежность - перестать быть, к примеру, крестьянином или пролетарием, изменив свое положение на социальной лестнице. Существенно более сложным является вопрос о фактическом, а не воображаемом преодолении человеком своей этнической идентичности. В современном глобализирующемся мире люди легко изменяют свою

Принадлежность к той или иной нации. Иначе дело обстоит с национальностью, которая определяется не фактом происхождения, а устойчивыми стереотипными культурами — нормами мышления и чувствования, заставляющими человека осознавать мир и практически вести себя так, как это делают русские, японцы или поляки. Территорики этническая трансформация возможна, практически она чрезвычайно затруднена и, в случае с американистами, осуществляется, как правило, лишь во втором и третьем поколениях.

Несущественную среду общения образуют саморегулируемые группы, принадлежность к которым является для человека вопросом самоидентификации. В самом деле, если автор этих строк вполне самостоятельно примкнул к большому клубу футбольного клуба «Барселона», никто не вправе считать, что эта принадлежность непременно подразумевает, что в действительности в футбол за мадридский «Реал», не осознавая это обстоятельство. Замечу, что эта логика не работает в отношении объективно-стабильных групп, поскольку представлять себя членом такой группы не означает быть им в реальности. В самом деле, опустить себя философом, самураем или финнутом достаточно для того, чтобы быть им фактически, а не в собственных фантазиях. В последнем случае речь идет о воображаемой среде общения, которую не следует путать со средой виртуальной. В современном мире существует множество виртуальных сообществ, в которых по-прежнему «реально», по крайней мере, менее существует фактически и даже нередко имеет механизмы оформленного членства. Воображаемая среда порождается человеческой фантазией, продуктом которой является либо сама группа, либо принадлежность человека к ней.

(По К. Манджину)

12-14. На основе прочитанного текста напишите слова, пропущенные в схеме.



60 в - реалистично - социальн. в - саморегулируемые

15. Автор текста приводит пример, когда для удовлетворения потребности в принадлежности люди создают воображаемую среду общения. Он указывает, что эта среда может быть создана двумя путями. На основе описанного фрагмента текста выберите, какие из приведенных ниже ситуаций являются тем же путем удовлетворения этой потребности что и в авторском примере.

А) Согласно последней переписи населения, 263 россиянина считают себя кэбилами.
 Б) Желая получить дополнительный авторитет, некоторые бизнесмены в 90-е гг. относили себя к потомкам дворян.
 В) Павел состоит в интернет-сообществе любителей компьютерных игр и активно участвует в его жизни.

Г) Главная группа разведчиков Т. и де Монтальска «Укреслен» является универсальным средством украшения стремиться отнести себя к высшему обществу.

Максимум за задание 2 балла.

16. Какому из понятий, используемых в тексте, соответствует следующее определение?
 — это психологическое соотношение индивида с социальной группой, с которой он разделяет определенные нормы, ценности, групповые установки.

Максимум за задание 1 балл.

10 принадлежность